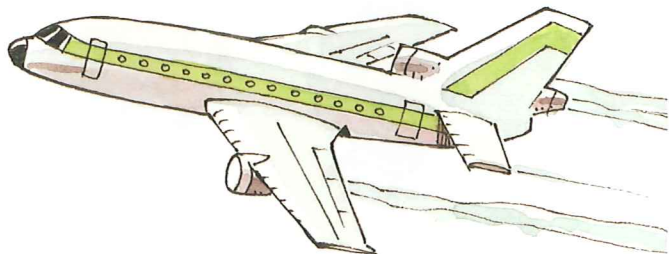


1 Rond af.



a

Gemiddeld aantal liters per 100 km.

Rond af op tienden:


- 7,65 liter
- 11,74 liter
- 6,05 liter
- 8,47 liter
- 9,82 liter

b

Rente per jaar.

Rond af op honderdsten:

- € 16,446
- € 9,054
- € 17,009
- € 25,252
- € 146,984



c

Remafstand van een vliegtuig.

Rond af op duizendsten:

- 0,4136 km
- 1,0017 km
- 0,8777 km
- 0,9009 km
- 1,8745 km

2 Reken handig uit.

- a De marktkoopman heeft een voorraad van 4,5 kg studentenhaver. Hij verpakt de studentenhaver in zakjes van 0,3 kg. Hoeveel zakjes kan hij vullen?

- b
- | | |
|----------------|----------------|
| $4,5 : 0,3 =$ | $3,6 : 9 =$ |
| $45 : 0,3 =$ | $0,8 : 0,05 =$ |
| $45 : 0,03 =$ | $80 : 1,6 =$ |
| $0,45 : 3 =$ | $0,75 : 5 =$ |
| $4,5 : 0,03 =$ | $240 : 0,6 =$ |




3 Hoeveel procent korting?

a



b



c



4 Schrijf op een andere manier.

a Schrijf als kommagetal.

$\frac{1}{4} =$

$\frac{2}{5} =$

$\frac{3}{8} =$

$\frac{1}{2} =$

$\frac{3}{10} =$

$2\frac{1}{8} =$

$3\frac{4}{5} =$

$7\frac{7}{10} =$

$3\frac{1}{2} =$

$6\frac{3}{4} =$

b Schrijf als breuk.

$0,3 =$

$0,750 =$

$1,5 =$

$33,05 =$

$10,01 =$

